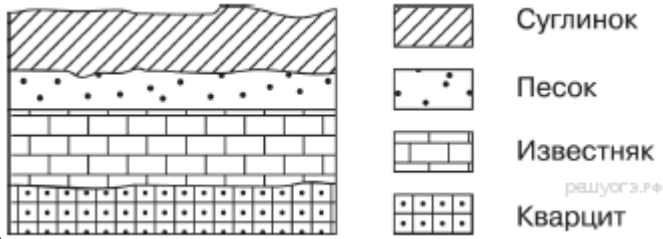


# МКОУ «Коршуновская СОШ». География

## Задание № 8, ОГЭ. Вариант 1

1. **Задание.** Во время экскурсии учащиеся сделали схематическую зарисовку залегания горных пород на обрыве у

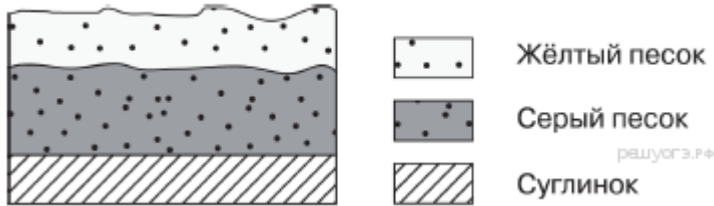


берега реки.

Расположите показанные на рисунке слои горных пород в порядке увеличения их возраста (от самого молодого до самого древнего). Запишите в ответ получившуюся последовательность букв.

А) кварцит Б) известняк В) песок

2. **Задание.** Во время экскурсии учащиеся сделали схематическую зарисовку залегания горных пород на обрыве у

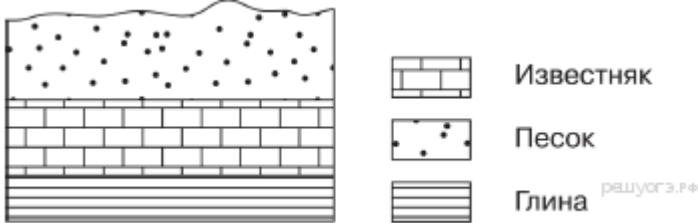


берега реки.

Расположите показанные на рисунке слои горных пород в порядке увеличения их возраста (от самого молодого до самого древнего). Запишите в ответ получившуюся последовательность букв.

А) жёлтый песок Б) серый песок В) суглинок

3. **Задание.** Во время экскурсии учащиеся сделали схематическую зарисовку залегания горных пород на обрыве у

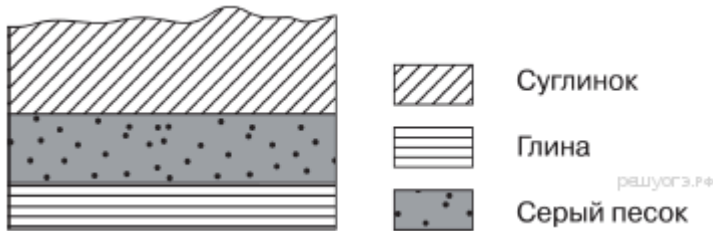


берега реки.

Расположите показанные на рисунке слои горных пород в порядке увеличения их возраста (от самого молодого до самого древнего). Запишите в ответ получившуюся последовательность букв.

А) известняк Б) песок В) глина

4. **Задание.** Во время экскурсии учащиеся сделали схематическую зарисовку залегания горных пород на обрыве у

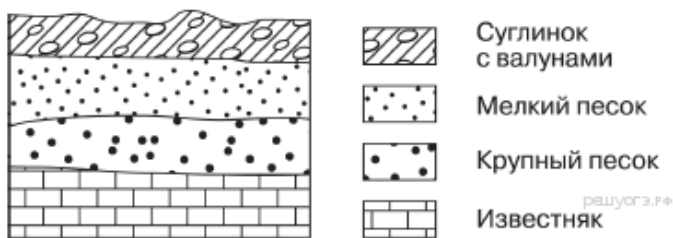


берега реки.

Расположите показанные на рисунке слои горных пород в порядке увеличения их возраста (от самого молодого до самого древнего). Запишите в ответ получившуюся последовательность букв.

А) серый песок Б) глина В) суглинок

5. **Задание.** Во время экскурсии учащиеся сделали схематическую зарисовку залегания горных пород на обрыве в



карьере.

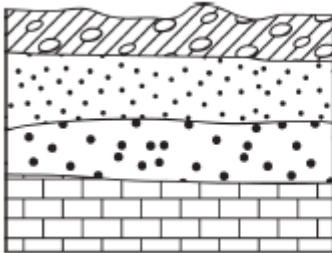
Расположите показанные на рисунке слои горных пород в порядке увеличения их возраста (от самого молодого до самого древнего). Запишите в ответ получившуюся последовательность букв.

А) известняк Б) мелкий песок В) крупный песок

Задание № 8, ОГЭ

Вариант 2

1. **Задание.** Во время экскурсии учащиеся сделали схематическую зарисовку залегания горных пород на обрыве в

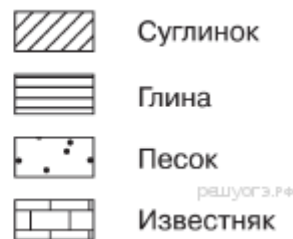
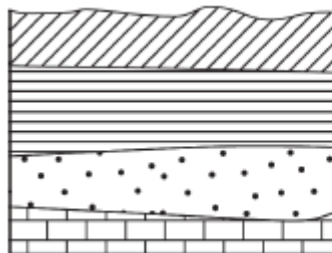


карьере.

Расположите показанные на рисунке слои горных пород в порядке увеличения их возраста (от самого молодого до самого древнего). Запишите в ответ получившуюся последовательность букв.

А) крупный песок    Б) суглинок с валунами    В) мелкий песок

2. **Задание.** Во время экскурсии учащиеся сделали схематическую зарисовку залегания горных пород на обрыве в

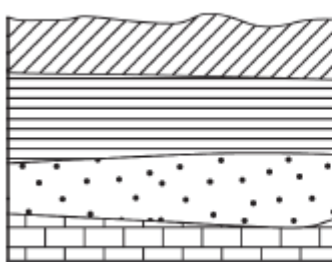


карьере.

Расположите показанные на рисунке слои горных пород в порядке увеличения их возраста (от самого молодого до самого древнего). Запишите в ответ получившуюся последовательность букв.

А) известняк    Б) песок    В) глина

3. **Задание.** Во время экскурсии учащиеся сделали схематическую зарисовку залегания горных пород на обрыве в

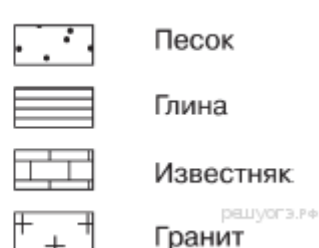
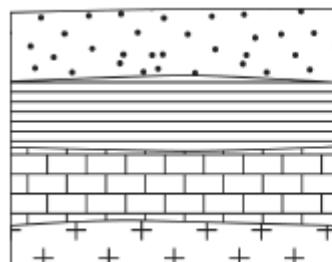


карьере.

Расположите показанные на рисунке слои горных пород в порядке увеличения их возраста (от самого молодого до самого древнего). Запишите в ответ получившуюся последовательность букв.

А) песок    Б) глина    В) суглинок

4. **Задание.** Во время экскурсии учащиеся сделали схематическую зарисовку залегания горных пород на обрыве в

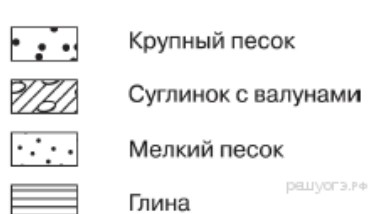
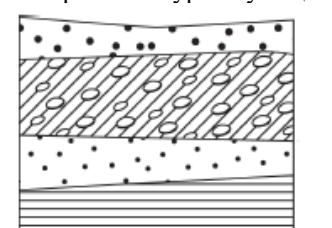


карьере.

Расположите показанные на рисунке слои горных пород в порядке увеличения их возраста (от самого молодого до самого древнего). Запишите в ответ получившуюся последовательность букв.

А) гранит    Б) песок    В) известняк

5. **Задание.** Во время экскурсии учащиеся сделали схематическую зарисовку залегания горных пород на обрыве в



карьере.

## МКОУ «Коршуновская СОШ». География

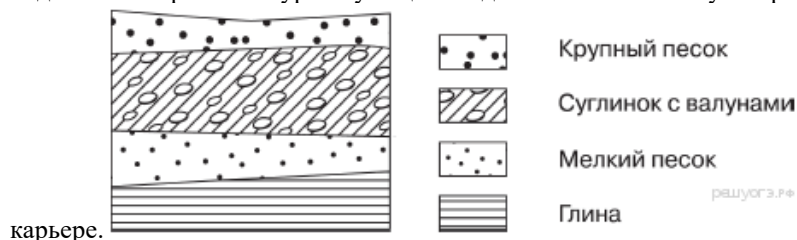
Расположите показанные на рисунке слои горных пород в порядке увеличения их возраста (от самого молодого до самого древнего). Запишите в ответ получившуюся последовательность букв.

- А) глина      Б) мелкий песок      В) крупный песок

### Задание № 8, ОГЭ

#### Вариант 3.

1. **Задание.** Во время экскурсии учащиеся сделали схематическую зарисовку залегания горных пород на обрыве в

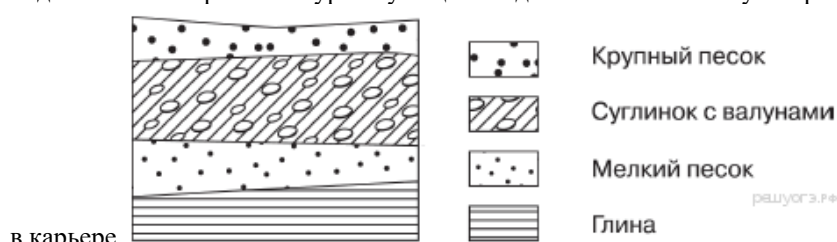


карьере.

Расположите показанные на рисунке слои горных пород в порядке увеличения их возраста (от самого молодого до самого древнего). Запишите в ответ получившуюся последовательность букв.

- А) глина      Б) мелкий песок      В) суглинок с валунами

2. **Задание.** Во время экскурсии учащиеся сделали схематическую зарисовку залегания горных пород на обрыве

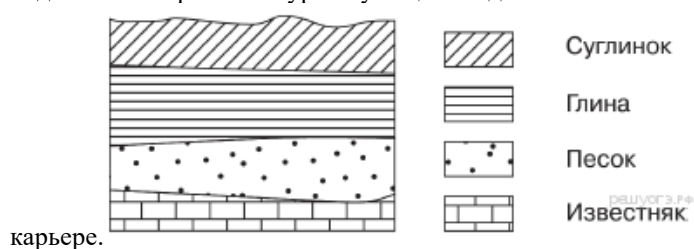


в карьере.

Расположите показанные на рисунке слои горных пород в порядке увеличения их возраста (от самого молодого до самого древнего). Запишите в ответ получившуюся последовательность букв.

- А) крупный песок      Б) глина      В) суглинок с валунами

3. **Задание.** Во время экскурсии учащиеся сделали схематическую зарисовку залегания горных пород на обрыве в

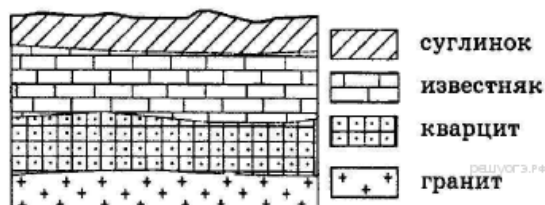


карьере.

Расположите показанные на рисунке слои горных пород в порядке увеличения их возраста (от самого молодого до самого древнего). Запишите в ответ получившуюся последовательность букв.

- А) суглинок      Б) глина      В) известняк

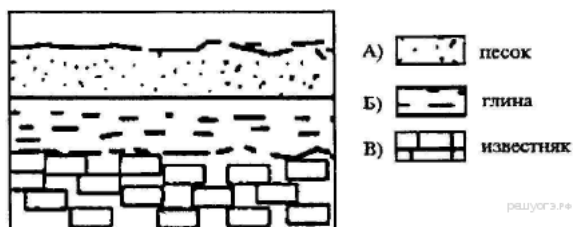
4. **Задание.** Во время экскурсии учащиеся сделали схематическую зарисовку залегания горных пород на обрыве в карьере.



Расположите показанные на рисунке слои горных пород в порядке увеличения их возраста (от самого молодого до самого древнего). Запишите в ответ получившуюся последовательность букв.

- А) кварцит      Б) гранит      В) суглинок

5. **Задание.** Во время экскурсии учащиеся сделали схематическую зарисовку залегания горных пород на обрыве у берега реки.



## МКОУ «Коршуновская СОШ». География

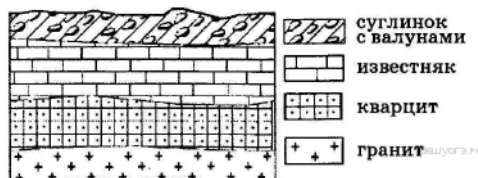
Расположите показанные на рисунке слои горных пород в порядке увеличения их возраста (от самого молодого до самого древнего). Запишите в ответ получившуюся последовательность букв.

А) песок      Б) глина      В) известняк

### Задание № 8, ОГЭ

#### Вариант 4.

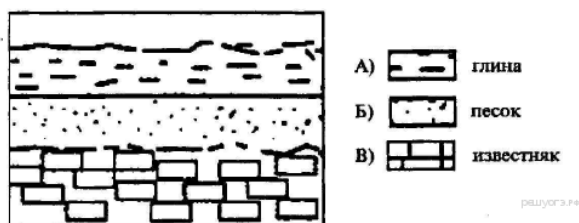
1. **Задание.** Во время экскурсии учащиеся сделали схематическую зарисовку залегания горных пород на обрыве в карьере.



Расположите показанные на рисунке слои горных пород в порядке увеличения их возраста (от самого молодого до самого древнего). Запишите в ответ получившуюся последовательность букв.

А) известняк      Б) суглинок с валунами      В) кварцит

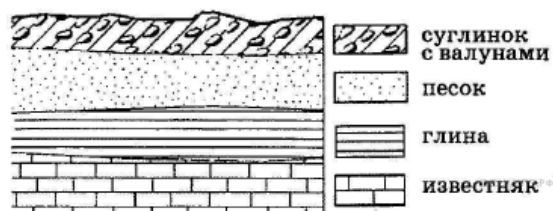
2. **Задание.** Во время экскурсии учащиеся сделали схематическую зарисовку залегания горных пород на обрыве у берега реки.



Расположите показанные на рисунке слои горных пород в порядке увеличения их возраста (от самого молодого до самого древнего). Запишите в ответ получившуюся последовательность букв.

А) глина      Б) песок      В) известняк

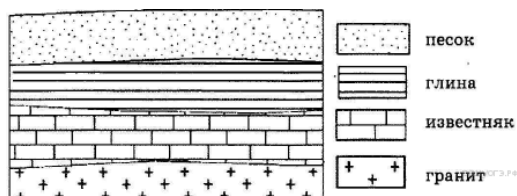
3. **Задание.** Во время экскурсии учащиеся сделали схематическую зарисовку залегания горных пород на обрыве в карьере.



Расположите показанные на рисунке слои горных пород в порядке увеличения их возраста (от самого молодого до самого древнего). Запишите в ответ получившуюся последовательность букв.

А) песок      Б) известняк      В) суглинок с валунами

4. **Задание.** Во время экскурсии учащиеся сделали схематическую зарисовку залегания горных пород на обрыве в карьере.

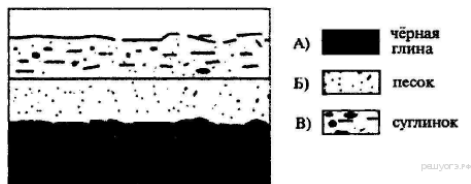


Расположите показанные на рисунке слои горных пород в порядке увеличения их возраста (от самого молодого до самого древнего). Запишите в ответ получившуюся последовательность букв.

А) глина      Б) песок      В) известняк

5. **Задание.** Во время экскурсии учащиеся сделали схематическую зарисовку залегания горных пород на обрыве у берега реки.

## МКОУ «Коршуновская СОШ». География



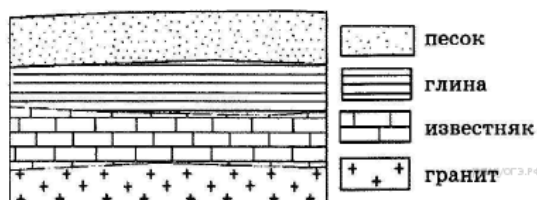
- А) чёрная глина  
 Б) песок  
 В) суглинок

Расположите показанные на рисунке слои горных пород в порядке увеличения их возраста (от самого молодого до самого древнего). Запишите в ответ получившуюся последовательность букв.

А) чёрная глина Б) песок В) суглинок

### Задание № 8, ОГЭ Вариант 5.

1. **Задание.** Во время экскурсии учащиеся сделали схематическую зарисовку залегания горных пород на обрыве в карьере.

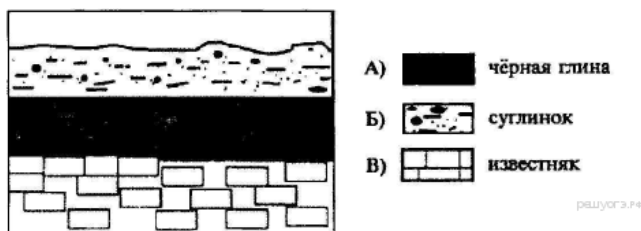


- песок  
 глина  
 известняк  
 гранит

Расположите показанные на рисунке слои горных пород в порядке увеличения их возраста (от самого молодого до самого древнего). Запишите в ответ получившуюся последовательность букв.

А) глина Б) гранит В) песок

2. **Задание.** Во время экскурсии учащиеся сделали схематическую зарисовку залегания горных пород на обрыве у берега реки.

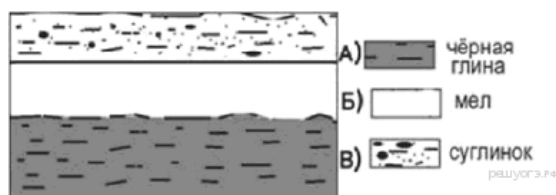


- А) чёрная глина  
 Б) суглинок  
 В) известняк

Расположите показанные на рисунке слои горных пород в порядке увеличения их возраста (от самого молодого до самого древнего). Запишите в ответ получившуюся последовательность букв.

А) чёрная глина Б) суглинок В) известняк

3. **Задание.** Во время экскурсии учащиеся сделали схематическую зарисовку залегания горных пород на обрыве у берега реки.

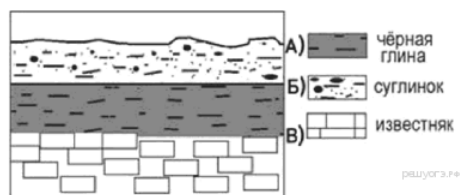


- А) чёрная глина  
 Б) мел  
 В) суглинок

Расположите показанные на рисунке слои горных пород в порядке увеличения их возраста (от самого молодого до самого старого).

А) чёрная глина Б) мел В) суглинок

4. **Задание.** Во время экскурсии учащиеся сделали схематическую зарисовку залегания горных пород на обрыве у берега реки.



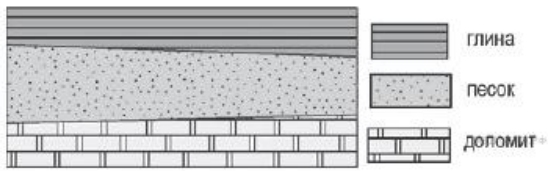
- А) чёрная глина  
 Б) суглинок  
 В) известняк

Расположите показанные на рисунке слои горных пород в порядке увеличения их возраста (от самого молодого до самого старого). Запишите в ответ получившуюся последовательность букв.

А) чёрная глина Б) суглинок В) известняк

5. **Задание.** Во время экскурсии учащиеся сделали схематическую зарисовку залегания горных пород в карьере.

## МКОУ «Коршуновская СОШ». География



Расположите показанные на рисунке слои горных пород в порядке увеличения их возраста (от самого молодого до самого старого). Запишите в ответ получившуюся последовательность букв.

А) доломит      Б) песок      В) глина